

DEBUXO TÉCNICO II

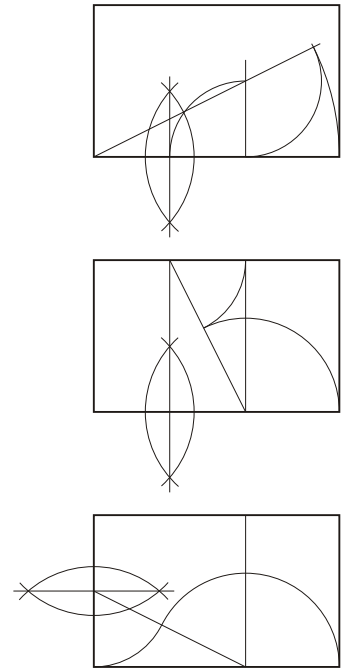
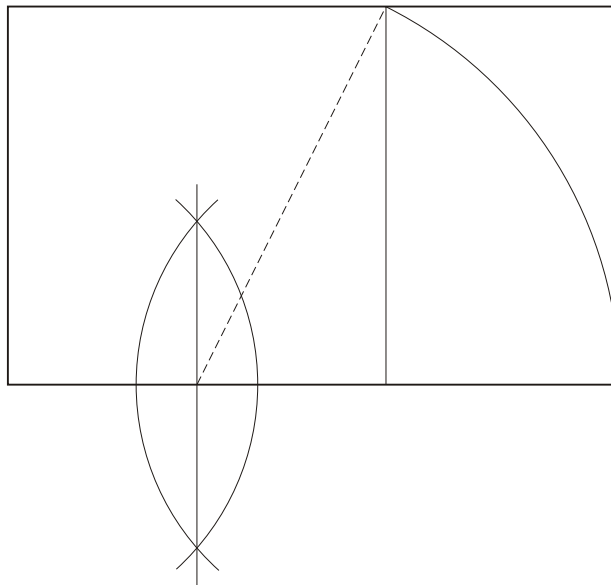
OPCIÓN A

A2.- RECTÁNGULO ÁUREO

Cualificación / Calificación: 3,00 puntos

Debuxa un rectángulo áureo, coñecido o seu lado menor AD 50 mm.

Dibuja un rectángulo áureo, conocido su lado menor AD 50 mm.



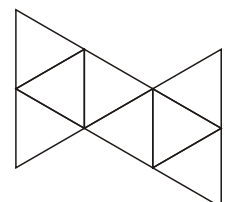
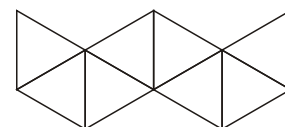
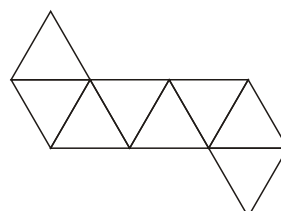
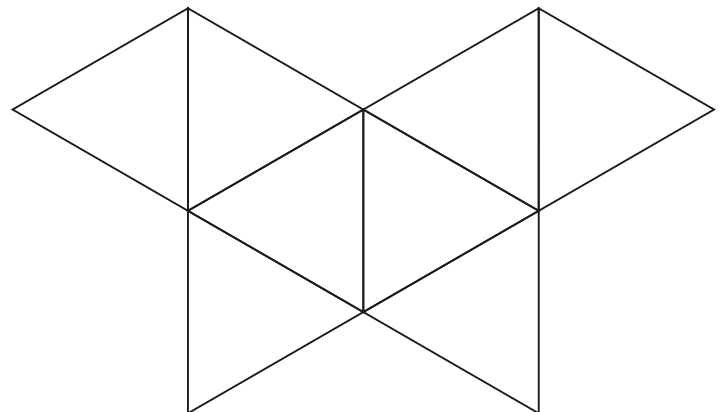
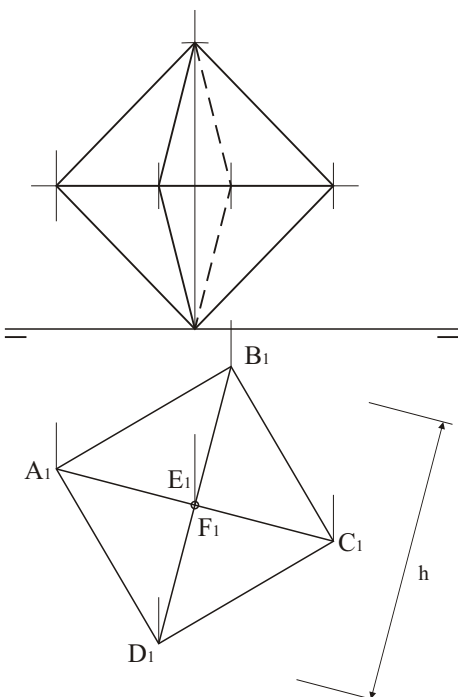
PEGAR AQUÍ CABECEIRA

A2.- SISTEMA DIÉDRICO

Cualificación / Calificación: 3,50 puntos

Dada a proxección horizontal dun octaedro apoiado nun vértice, debuxa a súa proxección vertical e o seu desenvolvemento.

Dada la proyección horizontal de un octaedro apoyado en un vértice, dibuja su proyección vertical y su desarrollo.

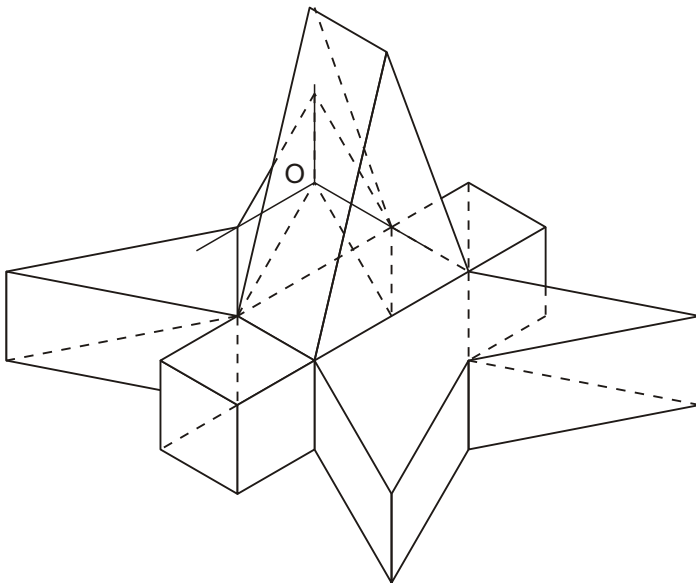
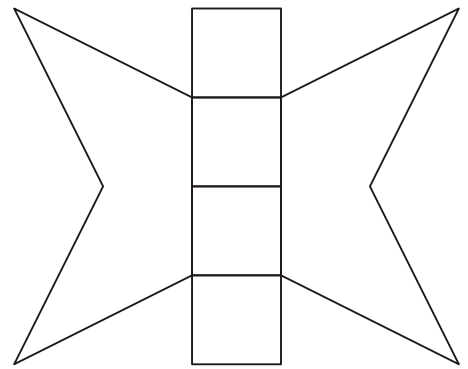
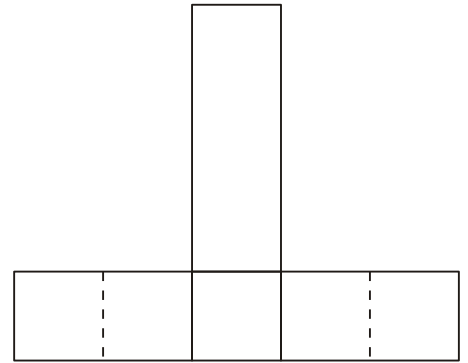
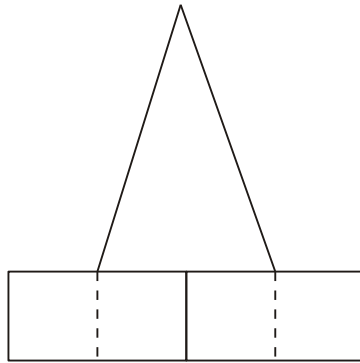


A3.- SISTEMA AXONOMÉTRICO

Cualificación / Calificación: 3,50 puntos

Dadas as proxeccións diédricas da figura, debuxa unha ISOMETRÍA sen coeficientes de redución a escala E 1/1.

Dadas las proyecciones diédricas de la figura, dibuja una isometría sin coeficientes de reducción a escala E 1/1.



O alumno deberá eleixir unha das dúas opcións expostas, A ou B.

Todos os exercicios se resolverán nesta folia de exame. Os debuxos realizaranse unicamente a lapis, podendo utilizar distintos grosos para as operacións gráficas auxiliares e a solución final. Valórase o proceso de realización, polo que non é conveniente borrar as construcións auxiliares realizadas.

El alumno deberá elegir una de las dos opciones planteadas, A o B.

Todos los ejercicios se resolverán en esta hoja de examen. Los dibujos se realizarán únicamente a lápiz, pudiendo utilizar distintos grosores para las operaciones gráficas auxiliares y la solución final. Se valora el proceso de realización, por lo que no es conveniente borrar las construcciones auxiliares realizadas.

DEBUXO TÉCNICO II

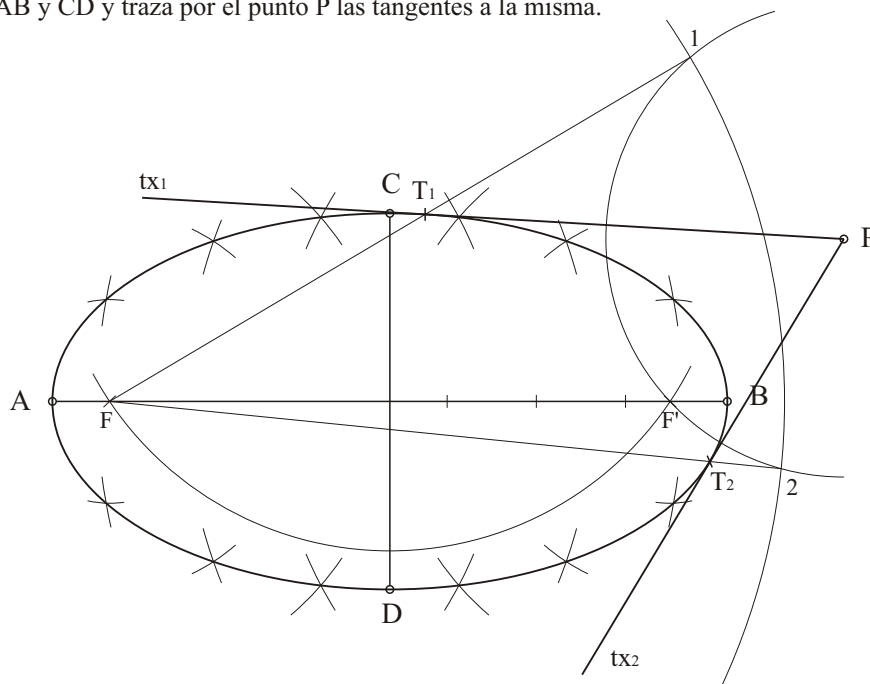
OPCIÓN B

B1.- CURVAS CÓNICAS

Cualificación / Calificación: 3,00 puntos

Debuxa unha elipse de eixos AB e CD e traza polo punto P as tanxentes á mesma.

Dibuja una elipse de ejes AB y CD y traza por el punto P las tangentes a la misma.



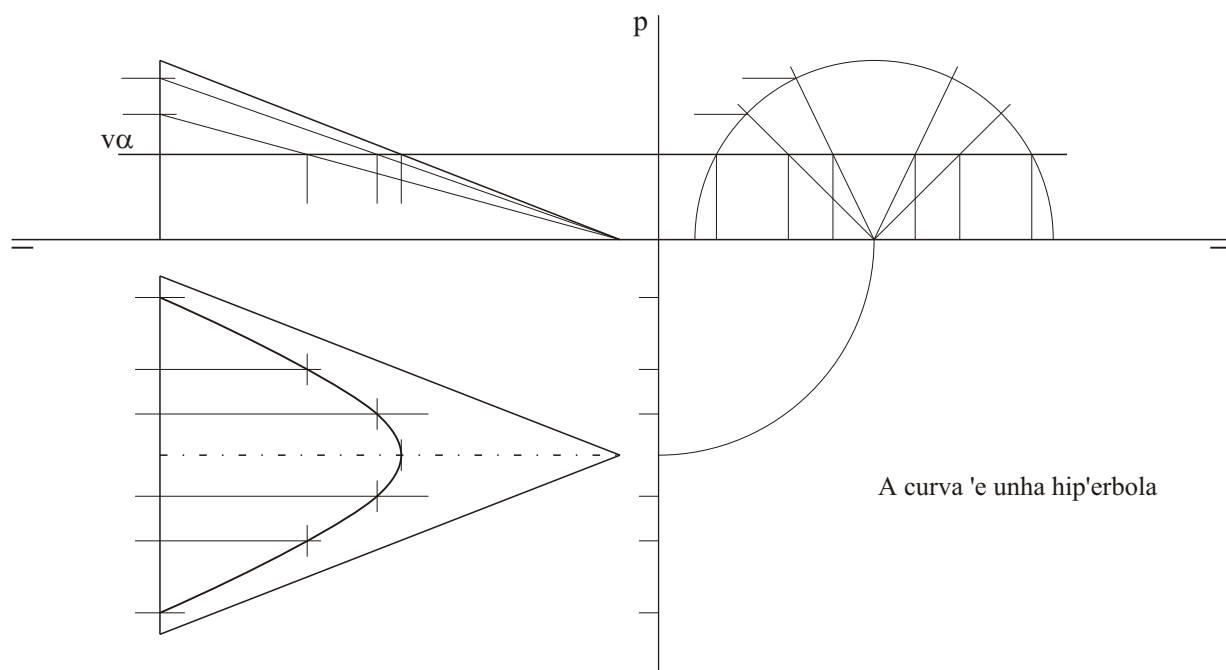
PEGAR AQUÍ CABECEIRA

B2.- SISTEMA DIÉDRICO

Cualificación / Calificación: 3,50 puntos

Debuxa a intersección do semicono co plano α en planta, alzado e perfil. ¿Que curva determina?

Dibuja la intersección del semicono con el plano α en planta, alzado y perfil. ¿Qué curva determina?

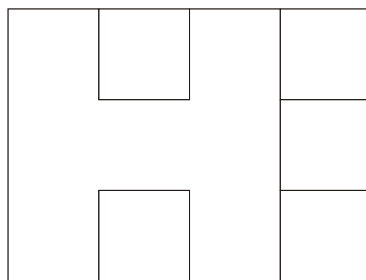
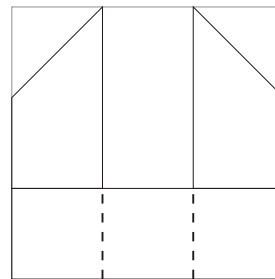
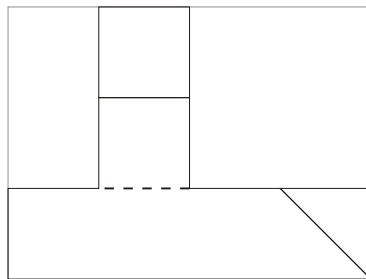
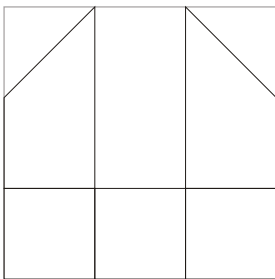
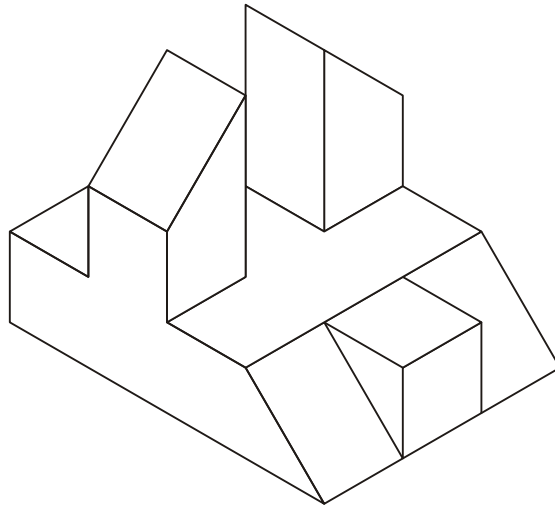


B3.- SISTEMA AXONOMÉTRICO/DIÉDRICO

Cualificación / Calificación: 3,50 puntos

Debuxa, aproveitando os rectángulos coas dimensións máximas, un bosquexo a man alzada das vistas diédricas da figura dada en sistema axonométrico. Indica liñas vistas e ocultas.

Dibuja, aprovechando los rectángulos con las dimensiones máximas, un boceto a mano alzada de las vistas diédricas de la figura dada en sistema axonométrico. Indica líneas vistas y ocultas.



O alumno deberá elixir unha das dúas opcións expostas, A ou B.

Todos os exercicios se resolverán nesta folia de exame. Os debuxos realizaranse unicamente a lapis, podendo utilizar distintos grosos para as operacións gráficas auxiliares e a solución final. Valórase o proceso de realización, polo que non é conveniente borrar as construcións auxiliares realizadas.

El alumno deberá elegir una de las dos opciones planteadas, A o B.

Todos los ejercicios se resolverán en esta hoja de examen. Los dibujos se realizarán únicamente a lápiz, pudiendo utilizar distintos grosores para las operaciones gráficas auxiliares y la solución final. Se valora el proceso de realización, por lo que no es conveniente borrar las construcciones auxiliares realizadas.