

BLOQUE 1

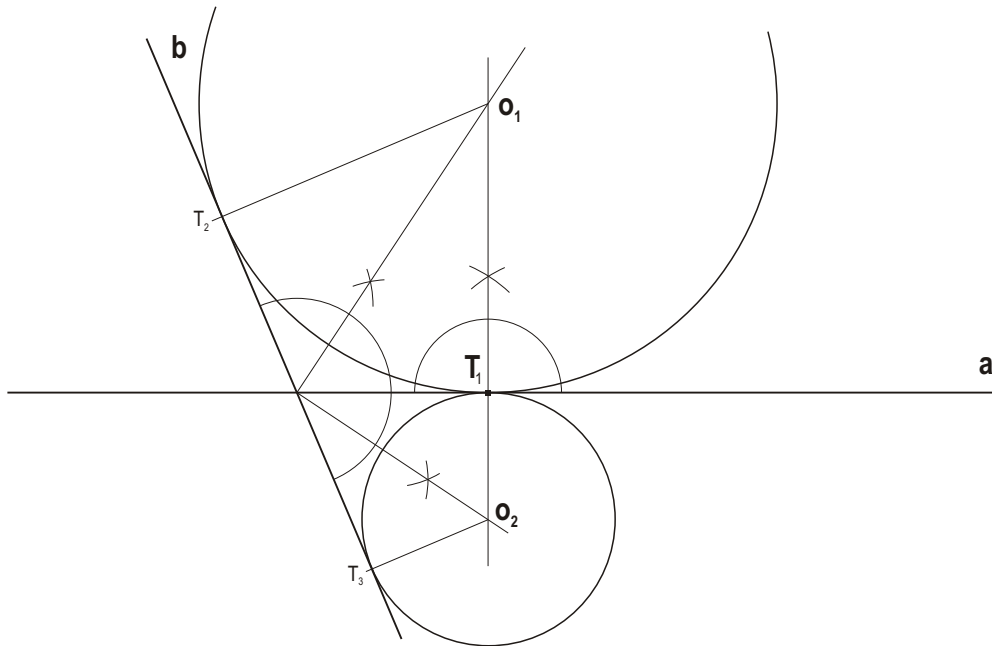
Resolver únicamente una de las cuestiones del bloque. CALIFICACIÓN: 3 puntos.

Resolver únicamente unha das cuestións do bloque. CUALIFICACIÓN: 3 puntos.

1A

Dibuja las circunferencias tangentes a las rectas a, b, que pasen por el punto T.

Debuxa as circunferencias tanxentes ás rectas a, b, que pasen polo punto T.

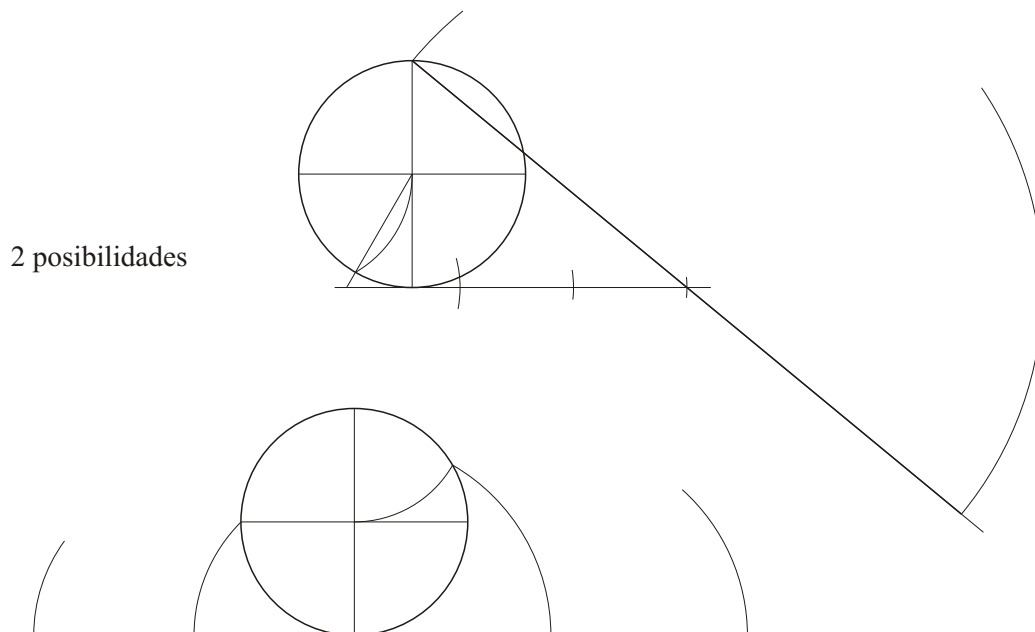


1B

Rectifica una circunferencia de radio r 15 mm.

Rectifica unha circunferencia de raio r 15 mm.

2 posibilidades



BLOQUE 2

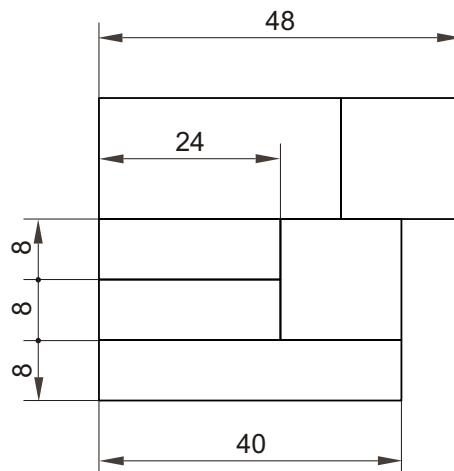
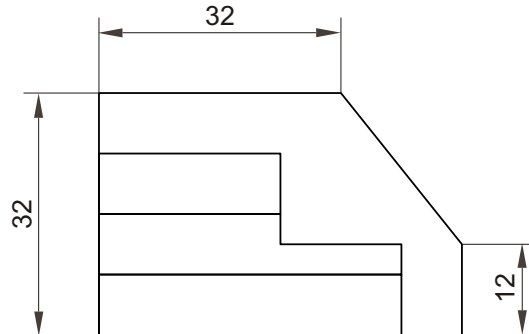
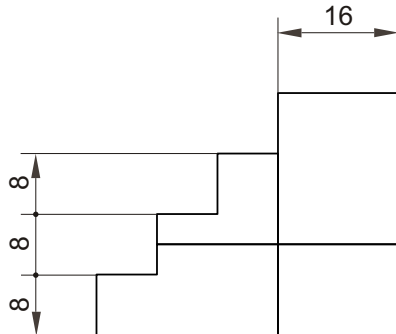
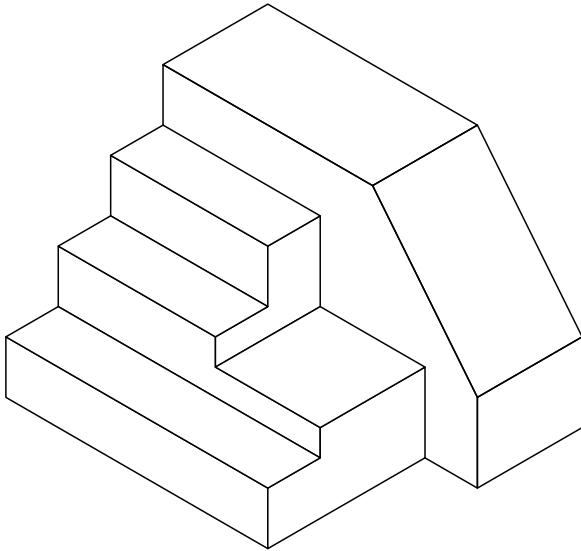
Resolver únicamente una de las cuestiones del bloque. CALIFICACIÓN: 3 puntos.

Resolver únicamente unha das cuestións do bloque. CUALIFICACIÓN: 3 puntos.

2A

Dibuja y acota, según la norma UNE, la 1ª, 2ª y 3ª proyecciones diédricas de la figura. Escala E 1/1.

Debuxa e acouta, segundo a norma UNE, a 1ª, 2ª e 3ª proxeccións diédricas da figura. Escala E 1/1.



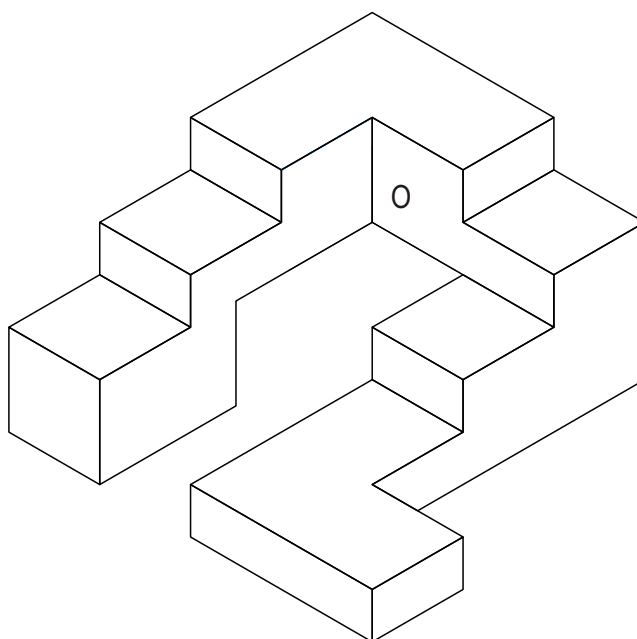
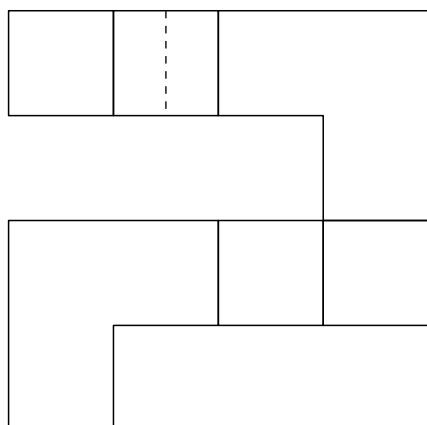
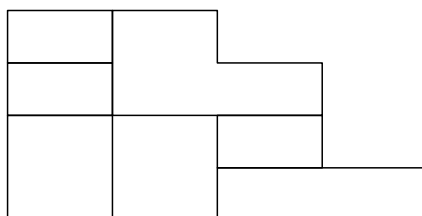
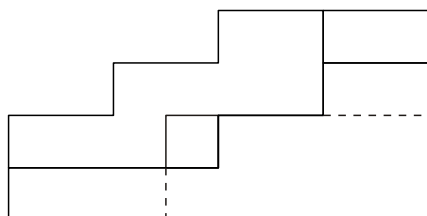
BLOQUE 2

Resolver únicamente una de las cuestiones del bloque. CALIFICACIÓN: 3 puntos.
 Resolver únicamente unha das cuestións do bloque. CUALIFICACIÓN: 3 puntos.

2B

Dadas las proyecciones diédricas de la figura, dibuja una isometría sin coeficientes de reducción a escala E 1/1.

Dadas as proxeccións diédricas da figura, debuxa unha isometría sen coeficientes de reducción a escala E 1/1.



BLOQUE 2

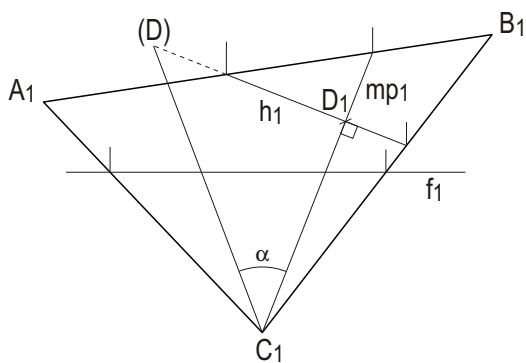
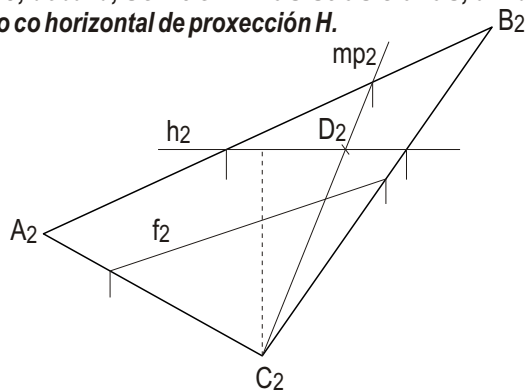
Resolver únicamente una de las cuestiones del bloque. CALIFICACIÓN: 3 puntos.

Resolver únicamente unha das cuestións do bloque. CUALIFICACIÓN: 3 puntos.

3A

Dado el plano ABC, dibuja, sin definir sus trazas, una recta horizontal, una frontal y el ángulo que forma el plano con el horizontal de proyección H.

Dado o plano ABC, debuxa, sen definir as súas trazas, unha recta horizontal, unha frontal, e o ángulo que forma o plano co horizontal de proxección H.



3B

Dibuja la verdadera magnitud de la sección que el plano α produce en el cubo dado.

Debuxa a verdadeira magnitude da sección que o plano α produce no cubo dado.

